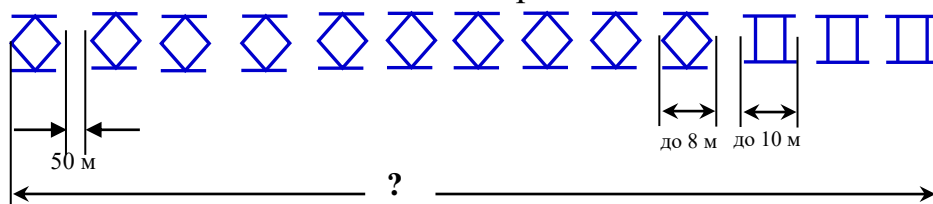


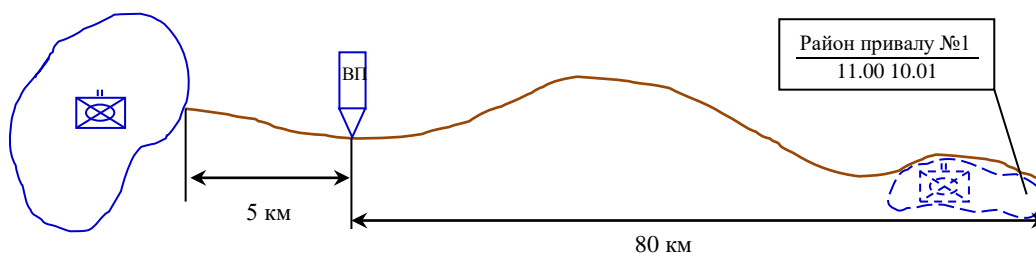
ПЕРЕЛІК ОРІЄНТОВНИХ ПИТАНЬ вхідного контролю командно-штабного курсу тактичного рівня Сухопутних військ (L-2 СВ)

1. Яка глибина колони РТГр?



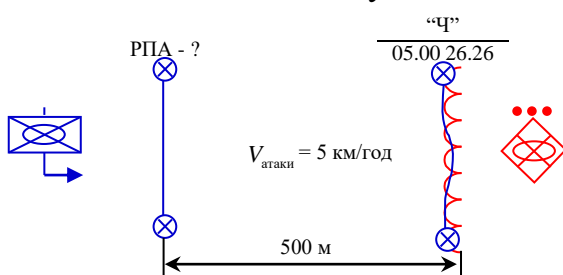
2. Які можливості мінометної батареї (кількість мінометів – 6 од.) щодо постановки нерухомого загороджувального вогню?

3. Визначити час початку руху механізованого батальйону, якщо колона батальйону повинна зосередитись у районі привалу № 1 о 11.00 10.01. (середня швидкість руху – 15 км/год; швидкість витягування – 15 км/год.)



4. Яка кількість залізничних платформ необхідна для перевезення техніки РТГр у складі: БМП-2 – 15 од.; Т-64БВ – 5 од.; 2С1 – 6 од.

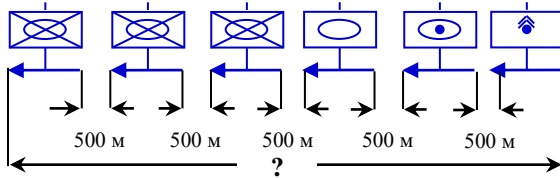
5. Який час виходу механізованої роти на рубіж переходу в атаку:



час “Ч” – 05.00 26.06; відстань від рубежу переходу в атаку до переднього краю оборони противника – 500 м; швидкість атаки – 5 км/год.

6. Які можливості доданого БТГр артилерійського дивізіону щодо постановки нерухомого загороджувального вогню за таких умов: 2С1– 18 од.; кількість боєприпасів – 3 б/к.

7. Яка глибина колони БТГр?

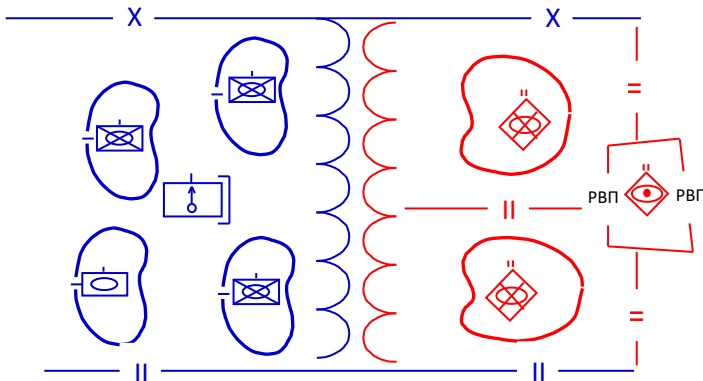


- мр – 10 од. БМП-2 у кожній;
- тр – 10 од. Т-64БВ;
- гсабатр – 6 од. 2С1;
- реабатр – 6 од. БМ-21;
- відстань між машинами 50 м.

8. Які можливості доданого механізованому батальйону артилерійського дивізіону щодо постановки рухомого загороджувального вогню за таких умов: 2С3 – 18 од.; кількість боєприпасів – 3 б/к?

9. Визначити кількість залізничних платформ необхідну для перевезення техніки РТГр у складі: БМП-2 – 3 од.; Т-64БВ – 10 од.; 2С1 – 6 од.

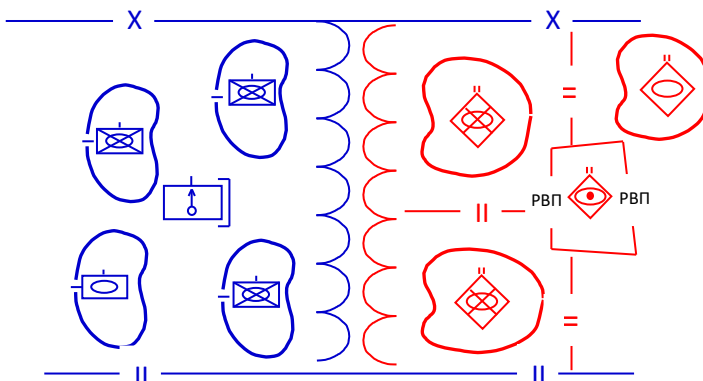
10. Визначити кількісне співвідношення сил та засобів сторін:



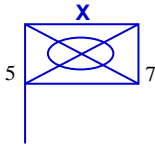
Батальйони (дивізіони), роти (батареї) укомплектовані 100% озброєнням та військовою технікою.

11. Визначити кількісне співвідношення сил та засобів сторін:

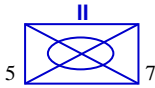
Батальйони (дивізіони), роти (батареї) укомплектовані 100% озброєнням та військовою технікою.



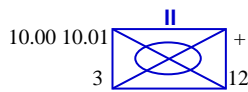
12. Пункт управління якого формування відображено на тактичному знаку?



13. До складу якого формування входить зображений на тактичному знаку підрозділ?



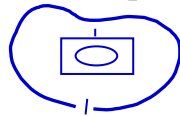
14. Що відображає даний тактичний знак?



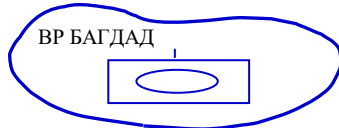
15. Що відображає даний тактичний знак?



16. Що відображає даний тактичний знак?



17. Що відображає даний тактичний знак?



18. Що відображає даний тактичний знак?



19. Яким умовним тактичним знаком позначається “2Б9”?

20. Основні характерні риси сучасного загальновійськового бою.

21. Основні принципи загальновійськового бою.

22. Стабілізаційні дії військ – це...

23. Складові підготовки бою батальйону.

24. Сутність визначення замислу бою.

25. Документи розробляються і оформляються у батальйоні під час підготовки бою.

26. Атака – це...
27. Яким чином визначається напрямок зосередження основних зусиль в батальйоні?
28. Складові організації бою батальйону.
29. Складові замислу оборонного бою батальйону.
30. Яким чином доводяться бойові завдання підрозділам у батальйоні?
31. Що визначає командир батальйону під час завершення формулювання рішення?
32. Складові замислу наступального бою батальйону.
33. Складові замислу маршу батальйону.
34. Складові процесу управління вогнем батальйону.
35. Показники наступального бою батальйону за звичайних умов.
36. Показники наступального бою батальйону у населеному пункті.
37. Зміст найближчого завданням батальйону при веденні наступального бою у населеному пункті.
38. Елементи похідного порядку батальйону.
39. Що призначається батальйону під час відходу (виходу з бою)?
40. Види бойового забезпечення батальйону.
41. Віддалення вихідної позиції танкового підрозділу від переднього краю оборони противника (під час наступу з положення безпосереднього зіткнення з противником).
42. Глибина дій батальйону у рейдовому загоні.
43. Що обороняє батальйон у населеному пункту?
44. Яким чином визначається накреслення переднього краю оборони у гірській місцевості?
45. Віддалення другого ешелону батальйону від підрозділів першого ешелону під час ведення наступального бою.

46. Методи організації взаємодії в батальйоні.
47. Періоди вогневого ураження противника у наступальному бою.
48. Механізований батальйон – це ...
49. Що таке командно-спостережний пункт механізованого батальйону?
50. Вимоги до розміщення району вогневих позиції мінометної батареї в оборонному бою батальйону.

Список літератури:

1. Бойовий статут механізованих і танкових військ Сухопутних військ ЗС України. Частина II (батальйон, рота) – К.: КСВ ЗС України, 2016. – 225 с.
2. Бойовий статут механізованих і танкових військ Сухопутних військ ЗС України. Частина III (взвод, відділення, танк) – К.: КСВ ЗС України, 2016. – 231 с.
3. Збірник тактичних розрахунків з прикладами: навч. посіб. / [Артамощенко В. С., Голованов А. В., Гайдарли Г.С., та інші].– К.: НУОУ ім. Івана Черняхівського, 2018. – 96 с.
4. Процедури процесу прийняття військового рішення (за стандартами НАТО): навч. посіб. / [Музиченко Д.П., Філюнкін Є.В., Швалючинський В.В. та інші], К.: НУОУ ім. Івана Черняхівського, 2018, – 140 с.
5. Методичні рекомендації з планування та організації бою за стандартами НАТО (штаб бригади (батальйону) та їм рівних) – К.: МЦМБ, КСВ ЗС України, 2020. – 140 с.